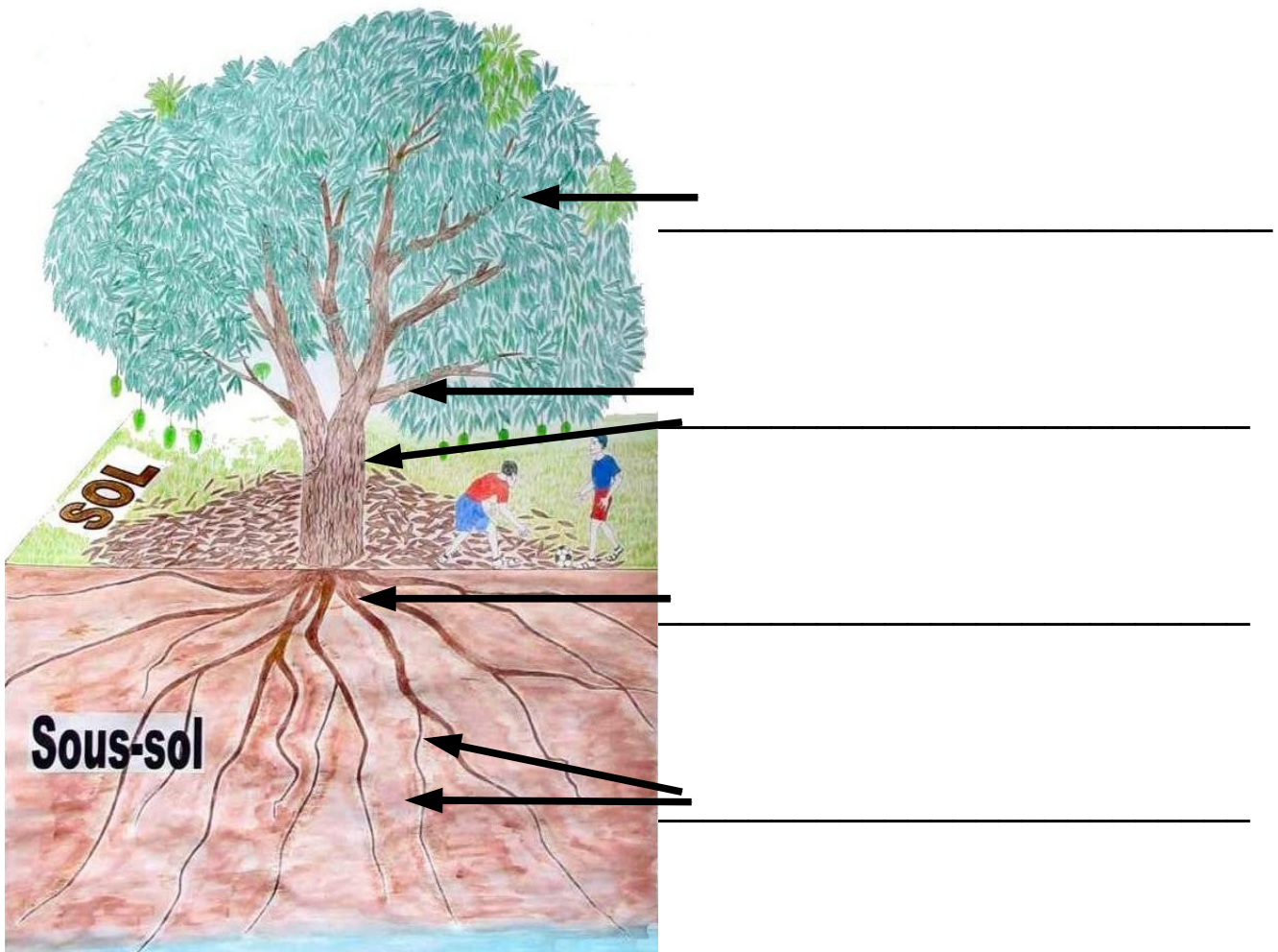


La forêt, les arbres
les végétaux




1) Les parties de l'arbre.
Cite les différentes parties de l'arbre



2) Je calcule l'âge d'un arbre

Voici une rondelle et un morceau quel âge avait l'arbre auquel ils appartenaient ?



Cet arbre a _____ ans



Ce morceau de bois a _____ ans

/1

3) L'arbre mystérieux

Ces fruits et cette feuille appartiennent au même arbre.



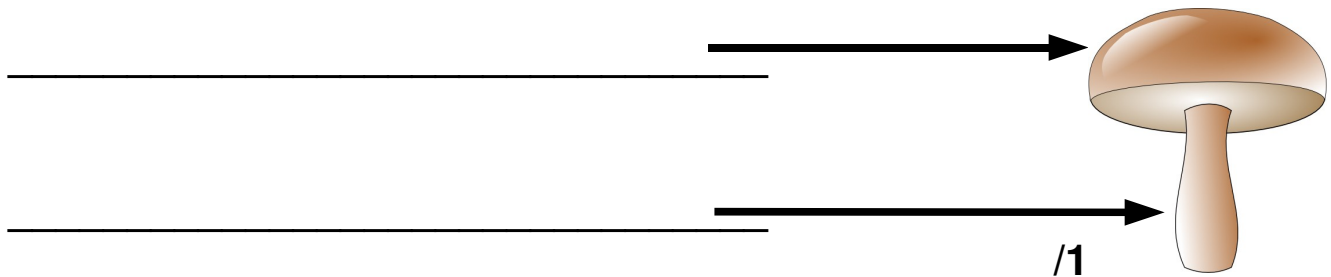
Quel est le nom de cet arbre ? : _____

Comment appelle t-on ce fruit ? _____

/ 1

4) Les champignons

Comment appelle t-on les parties indiquées par les flèches



5) Les types d'arbres

Complète la phrase ci dessous

Pour Noël, les bûcherons coupent dans la forêt de jeunes _____.



Dans une forêt, on trouve deux types d'arbres bien distincts.

Les _____ qui perdent leurs feuilles en automne et les _____ qui eux possèdent des aiguilles.

Dans la liste d'arbres ci-dessous il y en a un qui possède des aiguilles entoure- le.

bananier, manguier, hêtre, poirier, mélèze, noyer, baobab, bouleau

/2

6) Je pousse dans la forêt

Entoure les végétaux que l'on trouve dans nos forêts.



/1

7) La charte « copain de la forêt »

Ecris deux choses qu'il faut ne pas faire en forêt.

1) Ne coupe pas les jeunes arbres et surtout ne coupe pas leur cime.

2) _____

3) _____
