

Evaluation sur le canton de Vaud App: _____

Commentaires : _____

Signature d'un parent : _____

Points ___/28

A) Les frontières politiques du canton de Vaud.

Voici une carte de la Suisse, cite les cantons et pays qui font frontière avec le canton de Vaud. Attention aux numéros, ils doivent correspondre aussi avec ceux sur la carte.



1) _____

4) _____


2) _____

5) _____

3) _____




6) _____

Place les numéros sous les drapeaux



B) Le relief

Notre canton est divisé en trois régions bien distinctes. Nomme ces trois régions.

Dessins et commentaires	Noms
 <p>Zone montagneuse aux formes arrondies</p>	<hr/> <hr/>
 <p>Zone de petits monts et de vallons peu profonds</p>	<hr/> <hr/>
 <p>Zone montagneuse aux fortes pentes et aux formes saillantes</p>	<hr/> <hr/>

___/3

Cette montagne est la plus haute du canton, connais tu son nom et son altitude ?

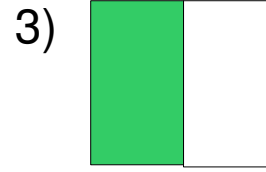

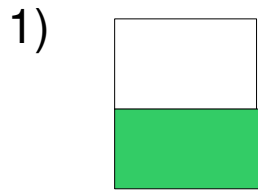


Nom : _____ Altitude : _____

/ 2

C) Le drapeau du canton.

Entoure le bon drapeau



Entoure la bonne devise

1) Patrie et Liberté

2) Société et fraternité

3) Liberté et Patrie

___/2

D) Hydrographie

Voici la carte du canton avec les principaux lacs et rivières.

Place les numéros sur la carte et indique le nom du lac ou de la rivière en question.

1) _____

2) _____

3) _____

4) _____

5) _____

6) _____



___/6

E) Localités

Place sur la carte ci-dessus un L à l'endroit où se trouve Lausanne, un Y pour Yverdon un M pour Morges et un N pour Nyon.

___/4

F) Un peu d'histoire

Il y a plus de 200 ans le canton de Vaud était sous la dépendance d'un autre canton, lequel ? Entoure la bonne réponse.

Fribourg Genève Berne Jura Zürich

Quelle est la date de l'indépendance du canton de Vaud ?

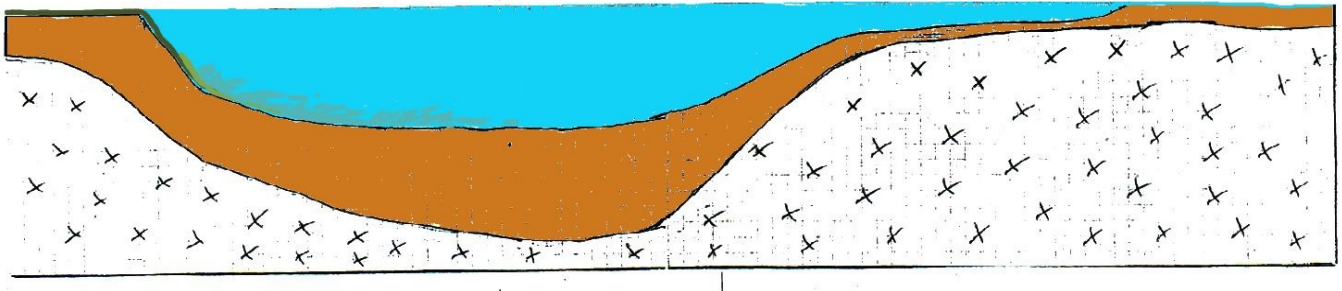
_____ /2

G) Le lac Léman

A l'aide du dessin ci-dessous, explique pourquoi le lac Léman aura disparu dans 45'000 à 60'000 ans. Cite le nom du fleuve qui traverse le lac.

La fosse lémanique

Vue en coupe



_____ /3